

# Fichas de repaso

## 4° de Primaria

Semana del 4 al 8 de mayo  
Día 4



GOBIERNO DE  
**MÉXICO**

**EDUCACIÓN**  
SECRETARÍA DE EDUCACIÓN PÚBLICA

**AEF MÉXICO**  
AUTORIDAD EDUCATIVA FEDERAL EN LA CIUDAD DE MÉXICO

## Presentación

Para dar continuidad a la estrategia “Aprende en Casa” se han elaborado estos materiales que contienen actividades para que continúes con tus estudios.

Estas fichas tienen una estrecha relación con los materiales que se presentan en la plataforma “Aprende en Casa” por lo que se te indicará el video, actividad o lectura que realizarás para completar el trabajo indicado.

## Tu maestro en línea

Durante toda esta contingencia contarás con el apoyo de profesores de la SEP dispuestos a resolver tus dudas.

Teléfono: **36 01 87 20**      Horario de atención:  
**Lunes a Viernes**  
**de 10:00 a las 18:00 hrs**

Llama a tu maestro

[tumaestroenlinea@nube.sep.gob.mx](mailto:tumaestroenlinea@nube.sep.gob.mx)





# Ficha 1. Lenguaje y Comunicación

## Texto e imágenes



### Aprendizaje

Relacionar el contenido del texto central y los recursos complementarios (recuadros, tablas, gráficas e imágenes).



### Materiales

- Cuaderno de español
- Mi libro de texto
- Hojas blancas
- Lápiz o pluma



### A usar tu cuaderno

1. Abre tu libro en la página 103 y lee el texto "Ciclones tropicales".

### Ciclones tropicales

Los ciclones tropicales son las tormentas más violentas que puede experimentar un marino; en aguas de las Antillas se denominan huracanes; al este de la India y en aguas del Japón, se conocen con el nombre de tifones, en el océano Índico (bahía de Bengala), ciclones; cerca de las costas australianas, willy-willies, y por las de Filipinas, baguios. Técnicamente, son todos ciclones tropicales; en América, es normal referirse a ellos con el nombre de huracanes (que es la etapa más intensa de un ciclón) o ciclones tropicales.

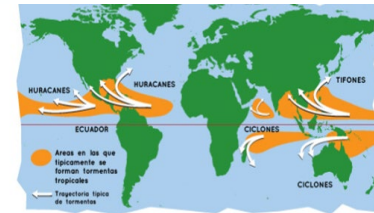
La palabra huracán se deriva de Hurakán, dios de las tormentas, adorado por los indios nberseños del mar Caribe y aplicado a los vientos tropicales de violencia catastrófica. Esta palabra fue adoptada por los españoles y portugueses; los anglosajones la interpretaron como "hurricane" y los franceses como "ouragan".

Los ciclones del hemisferio norte se generan en los océanos Atlántico y Pacífico, entre los 5° y 15° de latitud, y se desplazan hacia el oeste. Se presentan durante la época cálida, cuando las temperaturas del mar son del orden de 26 °C.

"Ciclones tropicales (Huracanes)", disponible en <http://www.aticonacionalde-niegos.gob.mx/index.php/niegos-hidrometeorologicos/ciclones-tropicales-huracanes> [Consulta: 7 de noviembre de 2013]



Recuperada de:  
<http://www.bcs.gob.mx/huracanes-2019/>



Recuperada de:  
<https://spaceplace.nasa.gov/hurricanes/sp/>



### Abre tu libro de texto

Consulta tu libro de texto página 103.



## Ficha 1. Lenguaje y Comunicación

### Texto e imágenes



### Evaluación

Con esta ficha aprendiste a relacionar el contenido del texto central y los recursos complementarios (recuadros, tablas, gráficas e imágenes).

Ahora, tu cuaderno forma parte de tu carpeta de experiencias, podrás mostrar el trabajo a tu profesor(a) cuando regreses a la escuela.



### A divertirnos

Con dibujos o fotografías elabora el árbol genealógico de tu familia.



### Para aprender más

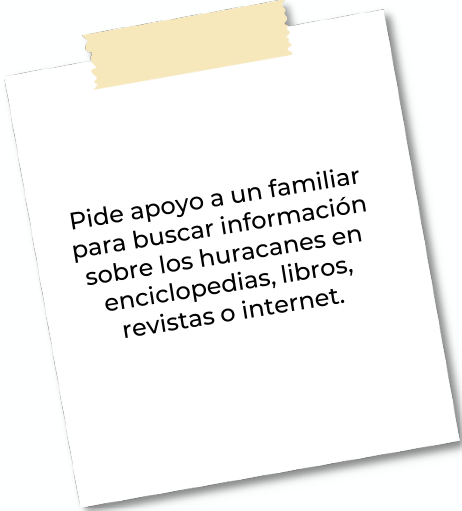
Si quieres conocer más sobre cómo se forma un huracán, consulta la liga:

<https://spaceplace.nasa.gov/hurricanes/sp/>



### A compartir en familia

Muestra a tu familia tu árbol genealógico y comenten sobre sus integrantes.



Pide apoyo a un familiar para buscar información sobre los huracanes en enciclopedias, libros, revistas o internet.



## Ficha 2. Pensamiento Matemático

### La frutería



### Aprendizaje

Uso de las fracciones para expresar partes de una colección.




### Materiales

- Cuaderno de matemáticas
- Libro Desafíos Matemáticos
- Colores
- Lápiz



### A usar tu cuaderno

Paola fue a comprar fruta, observa la siguiente imagen:



Coordinación Sectorial de Educación Primaria (2020)

¿Sabías qué la adopción de un sistema decimal en pesos y medidas dió como resultado que se impusiera el hábito decimal en el manejo de las fracciones?

¿Qué fracción del total representa cada fruta?

Piñas	Naranjas	Fresas



### Abre tu libro de texto

Ahora intenta resolver la página 124 de tu libro de Desafíos Matemáticos.



Investiga si es verdad que muchos de los relojes que hay en los campanarios dan la hora, pero también dan los cuartos y las medias.



## Ficha 2. Pensamiento Matemático

La frutería



### Evaluación

Con esta ficha hiciste uso de las fracciones para expresar partes de una colección.

Integra las hojas que utilizaste de tu cuaderno en tu carpeta de experiencias, podrás mostrar el trabajo a tu profesor(a) cuando regreses a la escuela.



### Para aprender más

La siguiente imagen representa una décima parte del total de la mercancía que hay en la frutería.

¿Cuánta fruta hay en total?

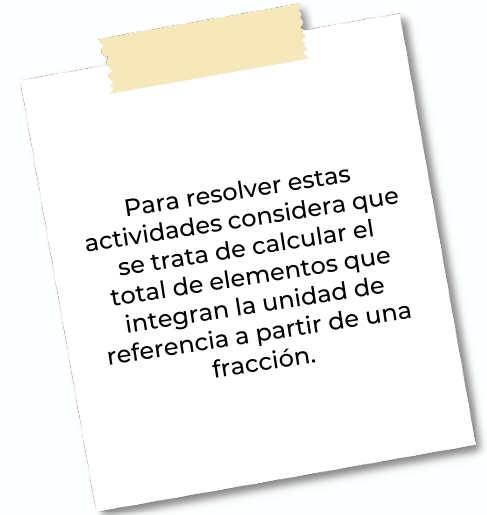


Adaptada de: <https://cutt.ly/Dyfel65>



### A compartir en familia

Comparte con alguno de tus familiares las respuestas que obtuviste y el proceso que seguiste para obtenerlas.



Tenemos algunos videos para ti.



Fracción de un grupo de objetos:

[https://youtu.be/3Qt8aN\\_FnhY](https://youtu.be/3Qt8aN_FnhY)

Ayúdate dibujando en tu cuaderno el total de la fruta existente en la frutería para descubrir la





## Ficha 3. Geografía

### Espacios agropecuarios en México



### Aprendizaje

Distinguir espacios agrícolas, ganaderos, forestales y pesqueros de México en relación con los recursos naturales disponibles.



### Materiales

- Cuaderno de Geografía
- Mi libro de Geografía
- Mi Atlas
- Hojas blancas
- Colores
- Lápiz



### A usar tu cuaderno

Toma un momento para reflexionar en lo siguiente:

¿Qué entiendes por un actividad agrícola, ganadera, forestal y pesquera?

Revisa la siguiente información:

- Una actividad agrícola consiste en el cultivo, es decir, la siembra, el cuidado, la cosecha y la venta de maíz, frijol, calabaza, papa, entre otros.
- La actividad ganadera radica en la crianza de animales, lo que implica cuidarlos, alimentarlos y consumirlos. Esta actividad se divide en la cría de aves (avícola); vacas y toros (ganado bovino); cerdos (ganado porcino), entre otros.
- La actividad pesquera consiste en captura de peces comestibles como el atún y el camarón.
- La actividad forestal consiste en la plantación, renovación y corte de árboles maderables de los cuales se obtiene el corcho, el hule, el chicle y las resinas.

En el desarrollo de esta actividad pondrás en juego tu habilidad de observación, búsqueda de información y comprensión.

Después de que distinguiste las actividades económicas y cómo están compuestas, será necesario ubicar algunos estados del país con mayor producción. Por ejemplo, Durango y Chihuahua son los estados con mayor actividad forestal.

¡Ahora es tu turno! anota en tu libreta

- Los 2 estados que destaquen en la actividad ganadera y en la pesca.
- Los 3 principales productos agrícolas que produce el país.

Para ello, será necesario consultar tu Atlas págs. 48 a la 55.



### Abre tu libro de texto

Consulta tu libro de Geografía. Cuarto Grado, pp.117 a 123 para que conozcas a detalle los diversos productos que conforman cada actividad, y tu Atlas de Cuarto Grado, pp. 48 a 55 para ubicar geográficamente la producción de los principales productos.



¿Quieres aún más información al respecto?, te invito a que observes el video "El sector primario. El trabajo y su clasificación" en la siguiente liga:  
<https://www.youtube.com/watch?v=INY7f3T3v1w>.



## Ficha 3. Geografía

### Espacios agropecuarios en México



### Evaluación

Con esta ficha aprendiste a distinguir espacios agrícolas, ganaderos, forestales y pesqueros de México en relación con los recursos naturales disponibles.

Ahora, tu cuaderno forma parte de tu carpeta de experiencias, podrás mostrar el trabajo a tu profesor(a) cuando regreses a la escuela.



### A divertirnos

Cada integrante de la familia escribe en una tarjeta el nombre de la fruta, del vegetal o pescado que más les guste y la actividad económica a la que pertenece.



### Para aprender más

Investiga con el apoyo de un familiar qué actividad prevalece en tu comunidad y anótala en tu libreta.



### A compartir en familia

Comenta con tus familiares, cuáles son los vegetales y semillas con mayor producción en nuestro país.

Sabías qué...  
El frijol y el maíz representan para México los dos cultivos con mayor importancia económica, ya que abarcan más de la mitad de la superficie sembrada en su territorio.

Tomado de tu libro de Geografía. Cuarto Grado. Pág. 119.



Tenemos algunos videos para ti.



El sector secundario. El trabajo y su clasificación:  
<https://www.youtube.com/watch?v=bndRw2TMtmQ>



El sector terciario. El trabajo y su clasificación:  
<https://www.youtube.com/watch?v=ufk9Y3hjFws&t=13s>



## Bibliografía

SEP (2019) Atlas Cuarto Grado. 2019. México. 2019:2020, CONALITEG, Autor.

SEP (2019) Desafíos Matemáticos. Cuarto Grado. 2019. México. 2019:2020, CONALITEG, Autor.

SEP (2019) Español. Cuarto Grado. 2019. México. 2019:2020, CONALITEG, Autor.

SEP (2019) Geografía. Cuarto Grado. 2019. México. 2019:2020, CONALITEG, Autor.

## Referencias de Internet

Happy Learning Español (2019 enero 15) El sector primario. El trabajo y su clasificación. Videos educativos para niños. [Archivo de video] Recuperado de <https://www.youtube.com/watch?v=INY7f3T3vIw> Última consulta 29 de abril 2020.

Happy Learning Español (2019 enero 29) El sector secundario. El trabajo y su clasificación. Videos educativos para niños. [Archivo de video] Recuperado de <https://www.youtube.com/watch?v=bndRw2TMtmQ> Última consulta 29 de abril 2020.

Happy Learning Español (2019 noviembre 12) El sector terciario. El trabajo y su clasificación. Videos educativos para niños. [Archivo de video] Recuperado de <https://www.youtube.com/watch?v=ufk9Y3hjFws&t=13s> Última consulta 29 de abril 2020.

Jaramillo, M. (2016 noviembre 7) [Logos Academy] Fracción de un grupo de objetos [Archivo de Video] Recuperado de: [https://youtu.be/3Qt8aN\\_FnhY](https://youtu.be/3Qt8aN_FnhY) Última consulta: 28 de abril 2020.

Spaceplace (4 diciembre 2019) ¿Cómo se forman los huracanes? [Página WEB] Recuperado de: <https://spaceplace.nasa.gov/hurricanes/sp/> Última consulta: 28 de abril 2020.

## Referencias de Imágenes

Anónimo (s. f.) Frutas (Imagen) Adaptada de: <https://cutt.ly/Dyfel65> Última consulta: 29 de abril 2020.

Coordinación Sectorial de Educación Primaria (2020) Frutas (Imagen).

Gobierno de Baja California Sur (s. f.) (Imagen) Recuperada de: <http://www.bcs.gob.mx/hurricanes-2019/> Última consulta: 28 de abril 2020.

Spaceplace (4 de diciembre de 2019) (Imagen) Recuperada de: <https://spaceplace.nasa.gov/hurricanes/sp/> Última consulta: 28 de abril 2020.