

Fichas de repaso

6° de Primaria

Semana del 18 al 22 de mayo
Día 3



GOBIERNO DE
MÉXICO

EDUCACIÓN
SECRETARÍA DE EDUCACIÓN PÚBLICA

AEF MÉXICO
AUTORIDAD EDUCATIVA FEDERAL EN LA CIUDAD DE MÉXICO

Presentación

Para la estrategia “Aprende en Casa” se proponen actividades para que continúes con tus estudios.

Estas fichas tienen una estrecha relación con los recursos que se presentan en la plataforma “Aprende en Casa” por lo que se te indicará la actividad que realizarás y/o lectura, video, o páginas del libro de texto que consultarás.

Tu maestro en línea

Durante toda esta contingencia contarás con el apoyo de profesores de la SEP dispuestos a resolver tus dudas.

Teléfono: **36 01 87 20** Horario de atención:
Lunes a Viernes
de 10:00 a las 18:00 hrs

Llama a tu maestro

tumaestroenlinea@nube.sep.gob.mx





Ficha 1. Lenguaje y Comunicación

Poemas: diferencias y semejanzas



Aprendizaje

Identificar algunas diferencias en el empleo de los recursos literarios entre el español y alguna lengua indígena.



Materiales

- Cuaderno de Español
- Libro de Español
- Colores
- Lápiz



A usar tu cuaderno

- Lee con atención el poema que se encuentra en la página 138 de tu libro de Español.
- Escribe en tu cuaderno sobre qué tema habla Nezahualcóyotl en este texto y el significado de la frase “¿Acaso de verdad se vive en la tierra?”.
- Lee nuevamente el poema en ambas versiones y completa la tabla con las diferencias y semejanzas respecto a la cantidad de palabras en cada verso:

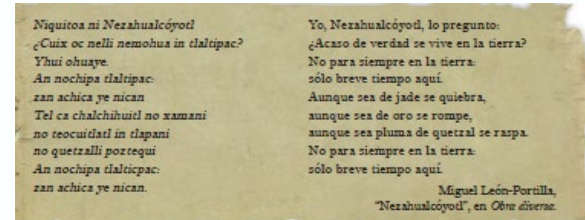
Rôēñ äĕñĀ ñăhŭât!	Poema en español
Diferencias	
' ěñ ějăňžă' Ā	

- Si cuentas con acceso a Internet, entra al link que se encuentra en la siguiente página en la sección de audiolibros y escucha el poema “Cuando muere una lengua” y contesta en tu cuaderno ¿Por qué es importante preservar las lenguas indígenas?



Abre tu libro de texto

Consulta tu libro de Español en las páginas 138 y 139, centra tu atención en los poemas y en las secciones de “Un dato interesante”.



Un dato interesante

Nezahualcōyotl (1402-1472), también conocido como el Rey Poeta, fue un gobernante que fomentó la cultura y las artes entre su pueblo. Fue autor de muchos de los cantos prehispánicos que conocemos hoy en día. Por cierto, en los billetes de cien pesos, junto a la figura de Nezahualcōyotl, aparece un poema que le fue atribuido. ¿Lo has visto? Toma una lupa y encuéntralo.



Ficha 1. Lenguaje y Comunicación

Rôěń ă' :Ăđĩğěřěñçĩă' ĂĲĂ' ěń ějăňžă'



Evaluación

Con esta ficha aprendiste a identificar algunas diferencias en el empleo de los recursos literarios entre el español y alguna lengua indígena.

Ahora tu cuaderno forma parte de tu carpeta de evidencias, podrás mostrar el trabajo a tu profesor(a) cuando regreses a la escuela.



A divertirnos

Realiza un pequeño poema con palabras de origen indígena.



Para aprender más

En el siguiente link podrás encontrar poemas en lengua indígena y su traducción al español

<https://www.mexico desconocido.com.mx/poemas-lenguas-indigenas-en-mexico.html>



A compartir en familia

Lee el poema que creaste a tu familia y solicita sus opiniones sobre este.

¿Necesitas ayuda?

Solicita el apoyo de un adulto para elaborar tu poema.

Audio libros



Para conocer un poema en lengua náhuatl, consulta el link:

<https://68voces.mx/nahuatl-cuando-muere-una-lengua>



Ficha 2. Pensamiento Matemático

NJÛ | țir | ô' Äy ÄĐ i wî' ô řē'



Aprendizaje

Determinar el Mínimo Común Múltiplo de varios números.



Materiales

- Cuaderno de Matemáticas
- Libro de Desafíos Matemáticos
- Colores
- Lápiz




A usar tu cuaderno

El Mínimo Común Múltiplo, es el número de menor valor que es múltiplo de ellos.

Para entenderlo mejor, observa el siguiente ejemplo donde obtendremos el mínimo común múltiplo del 3 y 4, para los cuales utilizaremos los números primos (2, 3, 5, 7,...):

1.- Veremos cual de esos numeros es divisible entre nuestro primer número primo (2).

$$\begin{array}{r|l} 4 & 3 \\ \hline \end{array}$$


números primos
 2, 3, 5, 7, ...

2.- En este ejemplo únicamente el 4 es divisible entre 2, por lo que queda de la siguiente manera:

$$\begin{array}{r|l} 4 & 3 & 2 \\ 2 & 3 & \end{array}$$

Öc' erva çon ô Äjre' Äy Ä ðe Ä ö Ä' Äiw' ic' le Ä ntrê Ä, Ä ẽrñ añeçãÄ

3.- Nuevamente el resultado que obtuve de dividir 4 entre 2 es divisible entre dos, por lo que obtenemos lo siguiente:

$$\begin{array}{r|l} 4 & 3 & 2 \\ 2 & 3 & 2 \\ 1 & 3 & \end{array}$$

4.- Mi resultado es 1, pero aún me Falta encontrar un número con el que pueda dividir al 3, por lo que tomamos el siguiente número primo (3).

Numero Primo

Son aquellos números que se pueden dividir entre ellos y la unidad, los primeros 4 números primos que puedes encontrar son:
2, 3, 5, 7



Abre tu libro de texto

Puedes abrir tu libro de Desafíos Matemáticos en la página 135 y resuelve los problemas de la consigna 2.



Ficha 2. Pensamiento Matemático

Múltiplos y Divisores



A usar tu cuaderno

Por lo que hacemos el mismo procedimiento, hasta obtener lo siguiente:

$$\begin{array}{r|l} 4 & 3 \\ 2 & 3 \\ 1 & 3 \\ \hline & 1 \end{array}$$

Giñáln ěntěš uáñđoñ ĩăĕ ũłtáđoñ ěñ ěo' Āđo' ě' Ā, Ā ĥăĉrěñ ô' Āĕrñ ĩñăđo.

Rôr Āłtĭñ ô, Ā ũłtĭr ĩĉărěñ ô' Āo' Ā ũñ ěrô' Ārĭñ ô' Ā ũĕĀ ũłłĭzán ô' :

2Ā, Ā, Ā, Ā, Ā, Ā, Ā, Ā ěĉĭr:

ĒĭĀ ĩñĭñ ô' ĉoñ ũñ Ā ĩłtĭr ĩo' ĀĕĀ, Ā, Ā, Ā Ā



Tenemos algunos videos para ti.



Video 1
https://www.youtube.com/watch?v=txLIA_fyL5g



Para aprender más

Ahora te toca a ti, encuentra el mínimo común múltiplo de los siguientes números:

20-24	35-15	18-27	10-25
-------	-------	-------	-------



Evaluación

Aprendiste que es un Mínimo Común Múltiplo y a resolver problemas con esta información.

Ahora los ejercicios que realizaste forman parte de carpeta de experiencias, muéstraselos a tu profesor (a).



Ficha 5. Geografía

Producción y comercialización de productos en el mundo



Aprendizaje

Comparar la producción y la comercialización de productos en diferentes países del mundo.



Materiales

- Cuaderno de Geografía
- Mi libro de Geografía
- Atlas de México
- Hojas blancas
- Colores
- Lápiz
- Anexos 1 y 2

Anexo 1. Gráfica Exportaciones Mundiales en 2011.

Ñeýo. A. Prıncır ăle' Ā
ěyr ôrtădôre' Ā
iın r ôrtădôre' Ā
ń ũndăle' Ā
ń ęřcănçă' Ā



A usar tu cuaderno

La semana pasada identificaste las principales regiones y países que venden los productos de mayor valor comercial y las anotaste en tu cuaderno.

Ahora revisa el anexo 1. y escribe el producto que se vende más en tu región. Para ello consulta tu Atlas de México páginas 91, 94, 97 y 98 y ubica que países destacan en la elaboración de este producto.

Cuando termines ve al anexo 2 e identifica si existe un equilibrio entre países compradores (importadores) y vendedores (exportadores) y da respuesta a las siguientes preguntas:

¿Qué país importa más y qué producto es? ¿Qué país importa menos y qué producto es?

¿Qué país exporta más y qué producto es? ¿Qué país exporta menos y qué producto es?

Anota las respuestas en tu cuaderno



Abre tu libro de texto

Consulta tu libro de Geografía, pág.122 a 123 e identifica los productos que se comercializan internacionalmente. Además observa tu Atlas de México, 5° grado en las páginas 91, 94, 97 y 98 y ubica que países destacan en la elaboración de productos.



Ficha 5. Geografía

Producción y comercialización de productos en el mundo



Evaluación

Con esta ficha aprendiste a comparar la producción y la comercialización de productos en diferentes países del mundo.

Ahora, tu cuaderno forma parte de tu carpeta de experiencias, podrás mostrar el trabajo a tu profesor(a) cuando regreses a la escuela.



A divertirnos

Inventa un producto. Crea una frase publicitaria. Determina su precio. Ten presente los gastos de producción, transporte y publicidad.

Ahora véndelo a tus familiares e invítalos a crear sus propios productos, juega con ellos, ganará quien haya obtenido mayores ganancias y ofertado los mejores beneficios.



A compartir en familia

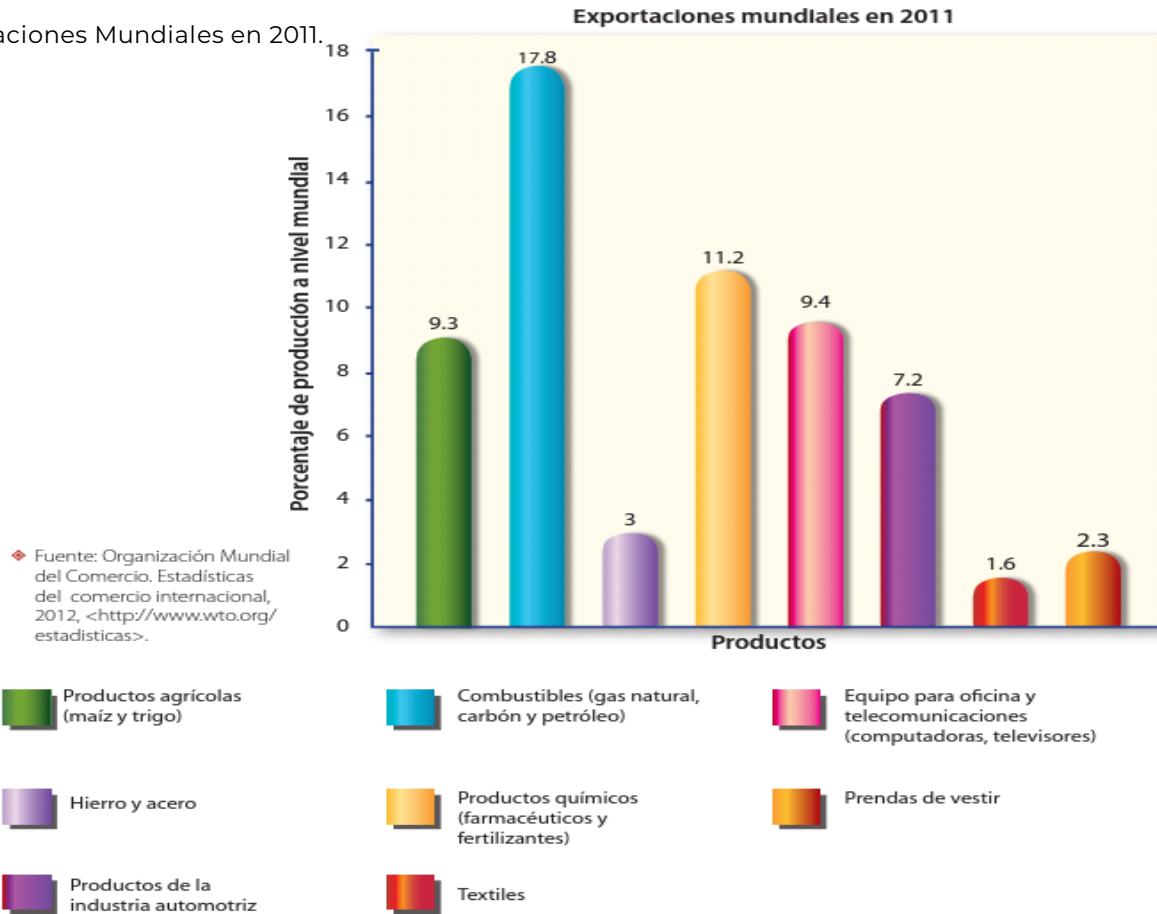
Comenta con tus familiares, por qué es necesario producir y comercializar productos.



Ficha 5. Geografía

RõđũççĩõñÄřçõñ ěřçĩalizãçõñĂđĚř řõđũççõ' ĄĚñĂ ěĹĂñ ůňđõ

Anexo 1. Gráfica Exportaciones Mundiales en 2011.





Ficha 5. Geografía

Producción y comercialización de productos en el mundo

Anexo 2 Principales exportadores e importadores mundiales de mercancías (2012).

Principales exportadores e importadores mundiales de mercancías (2012)

Valor monetario de los principales productos que se comercializan a nivel internacional (millones de dólares)				
País	Actividad	Productos agrícolas	Combustibles	Manufactura
Estados Unidos	Exporta	172 132	137 340	1 008 044
	Importa	141 852	433 222	1 617 787
China	Exporta	66 175	31 013	1 924 928
	Importa	156 823	313 019	1 058 812
Japón	Exporta	10 894	13 457	709 664
	Importa	93 725	302 404	417 776
México	Exporta	22 838	52 271	269 472
	Importa	27 076	33 333	289 835
Federación Rusa	Exporta	23 087	368 379	113 511
	Importa	41 983	4 052	253 116
Filipinas	Exporta	5 075	1 263	42 506
	Importa	7 240	14 093	41 580
Túnez	Exporta	1 931	2 454	12 339
	Importa	3 428	3 736	16 474
República Dominicana	Exporta	1 641	559	5 024
	Importa	2 822	4 808	10 284
Arabia Saudita	Exporta	5 202	324 146	57 235
	Importa	29 291	397	117 628

◆ Fuente: Organización Mundial del Comercio. Base estadística de datos. Series de comercio. <http://www.wto.org/spanish/res_s/statistics/its2013_s/its13_merch_trade_product_s.htm>.

Bibliografía

- SEP (2019) *Atlas Sexto grado*. 2019. México. 2019:2020, CONALITEG, Autor.
- SEP (2019) *Desafíos Matemáticos. Sexto grado*. 2019. México. 2019:2020, CONALITEG, Autor.
- SEP (1995) *Fichero de Actividades Didácticas Matemáticas. Sexto grado*. México 2004-2005
- SEP (2019) *Español. Sexto grado*. 2019. México. 2019:2020, CONALITEG, Autor.
- SEP (2019) *Geografía. Sexto grado*. 2019. México. 2019:2020, CONALITEG, Autor.

Referencias de Internet

- Banca Central de Chile. (2018 junio 15) Comercio Exterior: importaciones y exportaciones [Archivo de Video] Recuperado de: <https://www.youtube.com/watch?v=uxlc8xj2l-4> Última consulta: 5 de mayo 2020.
- Carreón, D. (2016 noviembre 9) MÍNIMO COMÚN MÚLTIPLO Super facil. [Archivo de Video] Recuperado de: https://www.youtube.com/watch?v=txLIA_fyL5g Última consulta 11 de mayo 2020.
- Milenio (2019 agosto 12). Así es la exportación del aguacate mexicano. [Archivo de Video] Recuperado de: <https://www.youtube.com/watch?v=-wGF2-TVYc> Última consulta: 5 de mayo de 2020.
- NOM MX (2015 diciembre 4). México, país exportador [Archivo de Video] Recuperado de: <https://www.youtube.com/watch?v=Co4SXPnjvPc> Última consulta: 5 de mayo de 2020.
- Paco el Chato (s.f.) Para saber mas [Página WEB] Recuperado de: <https://pacoelchato.com/paco-te-explica/matematicas/multiplos-y-divisores-estudia-aprende-facil> Última consulta 04 de mayo 2020

Rëğëřëñçıã' ÄđěÄñ äğěñě'

- Anónimo (s. f.) Tabla Múltiplos (Imagen) Recuperada de <http://www.imagui.com/a/juegos-de-matematica-de-resta-T6epoG7Ep> Última consulta: 04 mayo 2020.
- Coordinación Sectorial de Educación Primaria (2020) Múltiplos y divisores (Tabla).
- Coordinación Sectorial de Educación Primaria (2020) Problema tabla (Tabla).
- Espino, A. (2015) Tablero básico [Imagen] Recuperada de: <https://bit.ly/2L8DItQ> Última consulta: 04 mayo 2020.